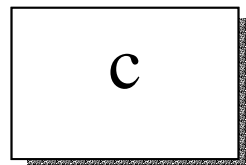




In ciascuna busta è stato conservato un cartellino con un numero.  
Puoi scoprire il numero osservando le operazioni riportate?  
Prova



$12 + b = 18$	$C + 3 = 7$	$2 + c = 6$
$7 + a = 12$	$b + 4 = 10$	$b + 3 = 9$
$6 + c = 10$	$a + 5 = 10$	$4 + a = 9$

Ora rispondi.

Nella busta <b>a</b> c'è il numero _____
Nella busta <b>b</b> c'è il numero _____
Nella busta <b>c</b> c'è il numero _____

Ora sai calcolare la somma di  $a + b + c$  ?